


Zaznacz drogę do zamku, wykonaj działania, które spotkasz po drodze.



$17 - 3 - 5 =$

$3 + 3 + 7 =$

$4 + 9 - 5 =$

$4 + 4 + 5 =$

$5 + 3 + 8 =$

$12 - 0 - 6 =$

$18 - 2 - 9 =$

$8 + 5 + 6 =$

$5 + 2 + 7 =$

$12 - 5 - 4 =$


$11 - 2 - 0 =$

$6 + 6 + 6 =$

$3 + 11 + 3 =$

$19 - 0 - 9 =$

$4 + 3 + 5 =$



Pokoloruj obrazek według opisu:

6 zielony

9 czerwony

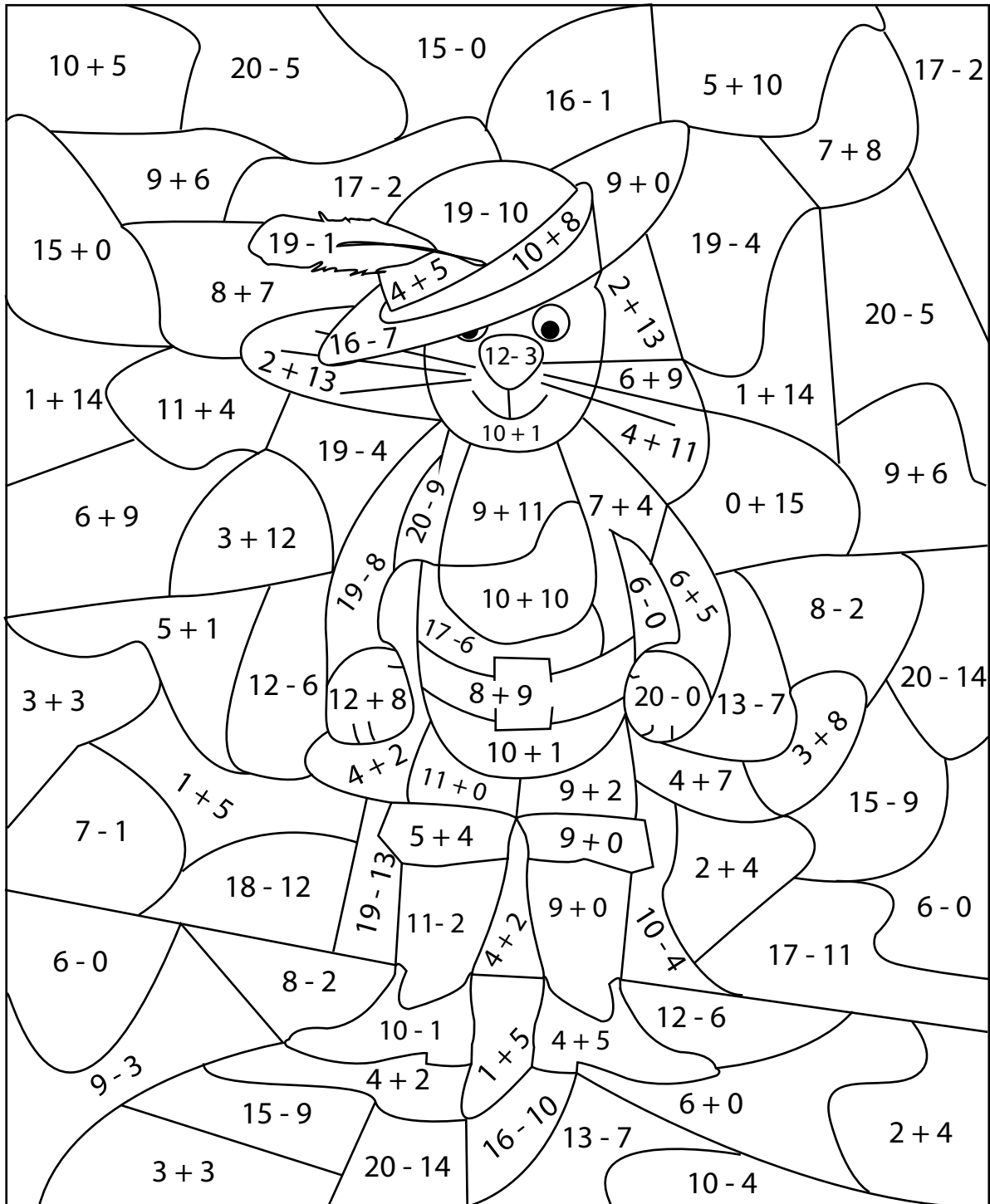
11 brązowy

15 niebieski


17 fioletowy

18 żółty

20 pomarańczowy



Uzupełnij grafy matematyczne.



Wykonaj działania. Pomaluj pola z wynikami według opisu:

różowy

zielony

żółty

niebieski

$13 - 8 =$

$12 - 4 =$

$17 - 6 =$

$20 - 6 =$

$3 + 3 =$

$4 + 4 =$

$5 + 6 =$

$7 + 7 =$

$14 - 7 =$

$5 + 4 =$

$3 + 9 =$

$10 + 5 =$

$11 - 6 =$

$17 - 8 =$

$18 - 6 =$

$16 + 0 =$

$19 - 13 =$

$14 - 4 =$

$16 - 3 =$

$16 - 1 =$

$5 + 2 =$

$3 + 7 =$

$8 + 5 =$

$8 + 8 =$

